



JOUR 23 : AFRIQUE DU SUD



👁️ Reporte les lettres correspondant aux symboles pour découvrir la couleur du pays. Pour les chiffres, 1 = A, 2 = B, 3 = C...

1

👉 Entoure les noms de ce texte. 🗣️ Combien en as-tu trouvé ?

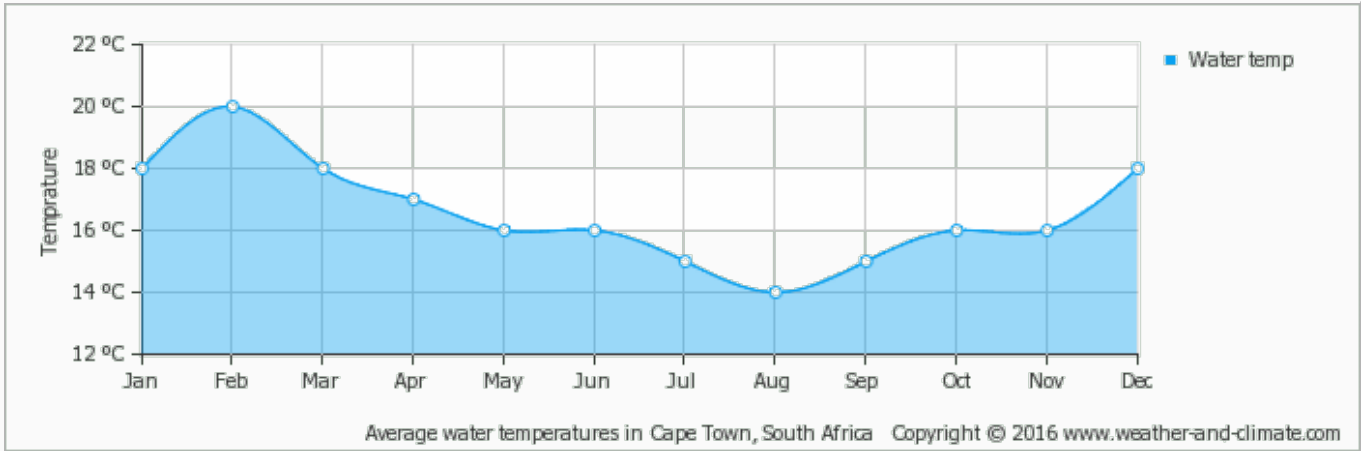
Le pays est une destination appréciée des amoureux des animaux. Depuis des siècles, le pays travaille dur pour protéger la faune et la flore locales, et met en place des réglementations strictes pour garantir la sécurité des espèces menacées. De nos jours, il abrite 19 parcs naturels où on admire tous les grands mammifères du pays : rhinocéros, éléphants, lions, buffles, léopards, baleines et grands requins blancs.

👉 Entoure les verbes de ce texte. 🗣️ Combien en as-tu trouvé ?

Le sanctuaire des chimpanzés de Jane Goodall abrite des douzaines de chimpanzés orphelins du fait des braconniers qui les tuent pour la vente de viande de brousse, du commerce illégal d'animaux ou des cirques qui les kidnappent. Le sanctuaire Eden leur donne une nouvelle chance et une nouvelle vie. Ici, on observe ces singes profiter de leur vie. Les soigneurs font tous les efforts pour que les chimpanzés se remettent de leur vie difficile. Ils les adorent.

2

👁️ Voici un graphique montrant la **température de l'eau** en Afrique du sud. Tu remarqueras que par rapport à chez nous, les saisons sont inversées, c'est normal puisque c'est un pays de l'hémisphère sud.



- 1) En quel mois l'eau est-elle la plus chaude ?
- 2) En quel mois l'eau est-elle la plus froide ?
- 3) Quelle est la température de l'eau en octobre ?
- 4) Quelle est la température de l'eau en février ?
- 5) Quelle est la différence de température entre le mois le plus chaud et le plus froid ?

3

👉 Qui est ce célèbre personnage qui s'est battu pour la **réconciliation entre les Noirs et les Blancs** en Afrique du Sud ?

Il s'agit de



Sur ton planisphère, colorie l'Afrique du Sud en





JOUR 24 : L'ALGÉRIE



👁️ Reporte les lettres correspondant aux symboles pour découvrir la couleur du pays. Pour les chiffres, 1 = A, 2 = B, 3 = C...

1

👉 Complète le texte avec les mots suivants : bordée - chaîne - désert - sud - vaste - végétation - constitué - nord - mer - cultures - climat - petit - étendue - situe

L'Algérie se dans le Maghreb, en Afrique du Nord. Elle est au par la Méditerranée et 80 % de son territoire est par le du Sahara au Les 20 % restants sont principalement formés par la montagneuse de l'Atlas, couverte d'une naturelle et de méditerranéennes qui poussent grâce au en vigueur.

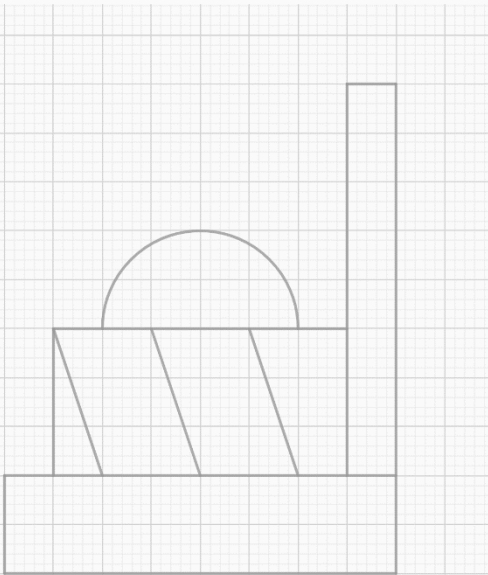
Près de cinq fois plus que la France, l'Algérie est le plus pays d'Afrique.

👉 Quel est le mot intrus ?

| | | | | | |
|--|--|--|--|--|--|
| | | | | | |
|--|--|--|--|--|--|

2

👉 La grande mosquée d'Alger est un célèbre monument religieux algérien. Trace le symétrique de cette figure le représentant.



3

👉 Comment s'appelle le désert qui se trouve au sud de l'Algérie ?

Il s'agit du

| | | | | | | |
|--|--|--|--|--|--|--|
| | | | | | | |
|--|--|--|--|--|--|--|



Sur ton planisphère, colorie l'Algérie en

| | | | |
|--|--|--|--|
| | | | |
|--|--|--|--|

 !



JOUR 26 : LA THAÏLANDE



👁️ Reporte les lettres correspondant aux symboles pour découvrir la couleur du pays. Pour les chiffres, 1 = A, 2 = B, 3 = C...

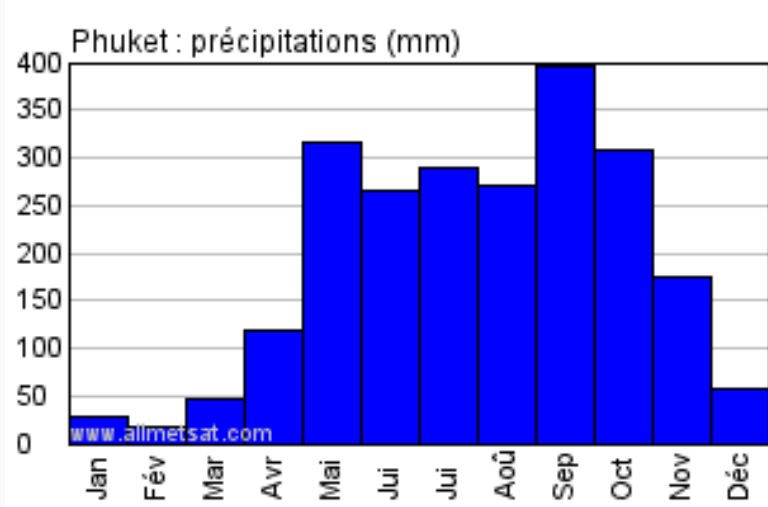
1

👉 Numérote ces mots pour les ranger dans l'ordre alphabétique.

temple pagode riz épices touk-touk éléphant marché tatouage

2

👁️ Voici un graphique montrant la hauteur de pluie tombée à Pucket (ville de Thaïlande) par mois.



- 1) Quel est le mois le plus pluvieux ?
- 2) Quel est le mois le plus sec ?
- 3) Quelle hauteur de pluie est-il tombé en mars ?
- 4) Durant combien de mois la hauteur de pluie est-elle supérieure à 150 mm ?
- 5) Durant combien de mois la hauteur de pluie est-elle inférieure à 100 mm ?

3

👁️ La Thaïlande est un pays très touristique. En 2019, trente-huit-millions-neuf-cent-mille personnes ont visité ce pays.

👉 Écris ce nombre en chiffres.



4

👉 Sur quel continent se trouve la Thaïlande ?

La Thaïlande se trouve en



Sur ton planisphère, colorie la Thaïlande en





JOUR 27 : LA COLOMBIE



👁️ Reporte les lettres correspondant aux symboles pour découvrir la couleur du pays. Pour les chiffres, 1 = A, 2 = B, 3 = C...

1

👉 Indique si les phrases sont à la **forme négative (N)** ou **affirmative (A)**.

La Colombie ne se résume pas au trafic de drogues.

C'est un pays grand comme quatre fois la France.

Il offre une grande diversité de paysages.

Le pays n'est que très peu visité.

On trouve aussi des plages paradisiaques sur la côte caraïbe.

2

👁️ En arrivant en Colombie, ma valise pesait 16,3 kg. J'ai acheté plusieurs souvenirs : un poncho de laine pesant 800 g, 2 paquets de 450g de café et un hamac pesant 2,5 kg.

👉 Quelle est la masse totale de souvenirs g soit , kg

👉 Combien va peser ma valise au retour ? , kg

Si ma valise dépasse les 20 kg, il faut payer un supplément.

👉 Vais-je devoir payer un supplément ? oui non



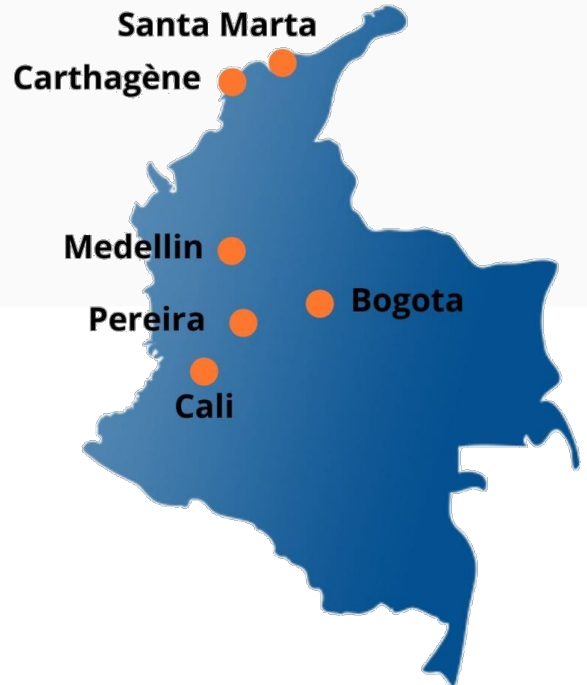
3

👁️ Lors de ton voyage en Colombie, tu atterris à Bogota puis tu te rends à Medellin.

Ta troisième étape se trouve à Carthagène puis tu vas à Santa Marta.

Enfin, tu retournes vers Bogota pour reprendre l'avion.

👉 Trace ton parcours sur la carte.




👉 Comment appelle-t-on la figure tracée ?

Il s'agit d'un

Sur ton planisphère, colorie la Colombie en !



JOUR 29 : MADAGASCAR



👁️ Reporte les lettres correspondant aux symboles pour découvrir la couleur du pays. Pour les chiffres, 1 = A, 2 = B, 3 = C...

1

👉 Complète le texte avec les déterminants suivants :

les - de - ce - l' - les - la - cette - des - un - le - ce - des - un

Beaucoup de gens ne connaissent Madagascar que par film. Rassurez-vous, il n'y a rien de tout cela dans magnifique pays deOcéan Indien. Seuls fossas et lémuriens y existent vraiment, mais il n'y a pas d'hippopotame, ni de girafe et encore moins lion. En parlant de faune et de flore, Madagascar dispose d'..... vrai trésor dans domaine. 75% baobabs et reptiles ne sont visibles que sur île. Et ce n'est qu'..... échantillon !

D'après decouvertmonde.com

👉 Quel est le déterminant que tu n'as pas utilisé ?

2

👁️ L'île de Madagascar est le plus gros producteur de gousses de vanille au monde.

J'ai acheté 2 gousses de vanille pour 7,50€.

👉 Combien coûtent 6 gousses de vanille ?

Cela coûte , €.



3

👁️ Trouve la valeur de chaque animal emblématique de Madagascar et 📝 écris-la dans la case.

+ + = 18

=

+ + = 48

=

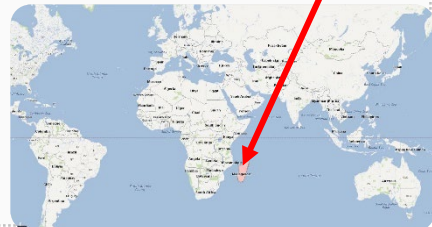
+ + = 24

=

4

👉 Dans quel océan se trouve cette île ?

L'île de Madagascar se trouve dans l'océan



Sur ton planisphère, colorie Madagascar en !



JOUR 30 : LE CHILI



👁️ Reporte les lettres correspondant aux symboles pour découvrir la couleur du pays. Pour les chiffres, 1 = A, 2 = B, 3 = C...

1

👉 Entoure le pronom qui peut remplacer le sujet en gras.

La ville de **Santiago** regorge de sites historiques. ▶ elle - il - elles - ils - nous - vous

Le **guide** nous a fait découvrir les spécialités locales. ▶ elle - il - elles - ils - nous - vous

L'**ambiance des rues** est vraiment très agréable. ▶ elle - il - elles - ils - nous - vous

Pablo et son frère nous ont appris à surfer. ▶ elle - il - elles - ils - nous - vous

Laura et toi avez visité le désert de sel. ▶ elle - il - elles - ils - nous - vous

Ma sœur et moi y avons observé des flamants roses. ▶ elle - il - elles - ils - nous - vous

Notre balade dans le désert restera un merveilleux souvenir. ▶ elle - il - elles - ils - nous - vous

👉 Combien de fois as-tu entouré le pronom « il » ?

2

👁️ Voici l'altitude de certains des plus hauts sommets du Chili.

👉 Écris ces nombres en chiffres.

Le sommet Tromen se trouve à cinq-mille-cent-quatre-vingts mètres d'altitude. ▶ m

L'Osorno se trouve à deux-mille-six-cent-soixante-et-un mètres d'altitude. ▶ m

Le Paniri se trouve à cinq-mille-neuf-cent-soixante mètres d'altitude. ▶ m

L'Acamarachi se trouve à six-mille-quarante-six mètres d'altitude. ▶ m

L'Aucanquilcha se trouve à six-mille-cent-soixante-seize mètres d'altitude. ▶ m

Le volcan San Pedro se trouve à six-mille-cent-quarante-cinq mètres d'altitude. ▶ m

Le Palpana se trouve à six-mille-cinquante-sept mètres d'altitude. ▶ m

👉 Quel est le sommet le plus haut ?

3

👁️ Le Chili connaît un décalage horaire de -6h avec la France.

Par exemple, s'il est 18h en France, il est midi au Chili.

👉 Quelle heure est-il au Chili s'il est 16h21 en France ?

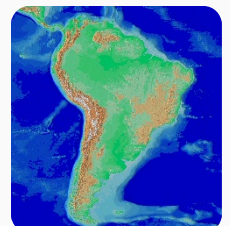
Il est h



4

👉 Comment s'appelle la grande chaîne de montagnes présente au Chili ?

C'est la



Sur ton planisphère, colorie le Chili en !