



JOUR 11 : LES ÉTATS-UNIS





👁️ Reporte les lettres correspondant aux symboles pour découvrir la couleur du pays. Pour les chiffres, 1 = A, 2 = B, 3 = C....

1

👁️ Voici la couverture de célèbres romans se déroulant aux Etats-Unis dont le titre a été caché.

👉 Associe chaque roman aux titres proposés.



Le Président a disparu

Les 4 filles du Docteur March

Voyage au bout de la solitude

Ne tirez pas sur l'oiseau moqueur

Les raisins de la colère

2

👉 Complète avec la bonne unité : m, cm ou km.

la taille d'un joueur de NBA

la hauteur d'un hamburger

la distance entre New-York et Miami

la hauteur de l'Empire State building


la largeur de la 5^{ème} avenue

la distance entre Paris et Los Angeles

3

👉 Au cours de leur histoire les Etats-Unis ont été sous domination de la Grande-Bretagne. Ils ont obtenu leur indépendance en 1776. Depuis combien de temps les Etats-Unis sont-ils indépendants ?


Les Etats-Unis sont indépendants depuis ans.



4

👉 Comment appelle-t-on ce bâtiment dans lequel vit et travaille le Président des Etats-Unis ?

Ce bâtiment s'appelle la



Sur ton planisphère, colorie les Etats-Unis en !



JOUR 12 : LE CANADA



👁️ Reporte les lettres correspondant aux symboles pour découvrir la couleur du pays. Pour les chiffres, 1 = A, 2 = B, 3 = C...

1

✍️ Entoure les erreurs de cette dictée. 🐿️ Combien en as-tu trouvées ?

Il est le deuxième plus grand pays du monde après la Russie. Il y a quatre saisons, mais l'hiver est rude : il neige beaucoup. Les personnes qui habitent au Canada sont des Canadiens. Les deux langues officielles y sont le français et l'anglais.

2

👁️ Trouve la valeur de chaque animal emblématique du Canada et ✍️ écris-la dans la case.

+ + = 75

=

+ + = 55

=

+ + = 49

=

3

👁️ Les pancakes sont une spécialité du Canada. Voici les ingrédients nécessaires pour 4 personnes : 250 g de farine, 30g de sucre, 2 œufs, un sachet de levure, 60g de beurre et 40cl de lait.

✍️ Quelles quantités vont être nécessaires pour 6 personnes ?

farine ▶ g

levure ▶ sachet

sucré ▶ g

beurre ▶ g

œufs ▶

lait ▶ cl



Aide : pour calculer pour 6 personnes, c'est comme calculer pour 4 personnes puis pour 2.

4

👁️ La France connaît un décalage horaire de +6h avec Ottawa, la capitale du Canada. Par exemple, s'il est 8h du matin en France, il est 2h du matin à Ottawa.

Quelle heure est-il à Ottawa s'il est 00h30 en France ? h

5

✍️ Sur quel continent se trouve le Canada ?

Le Canada se trouve en



Sur ton planisphère, colorie le Canada en !

JOUR 15 : LE JAPON



👁️ Reporte les lettres correspondant aux symboles pour découvrir la couleur du pays. Pour les chiffres, 1 = A, 2 = B, 3 = C...

1

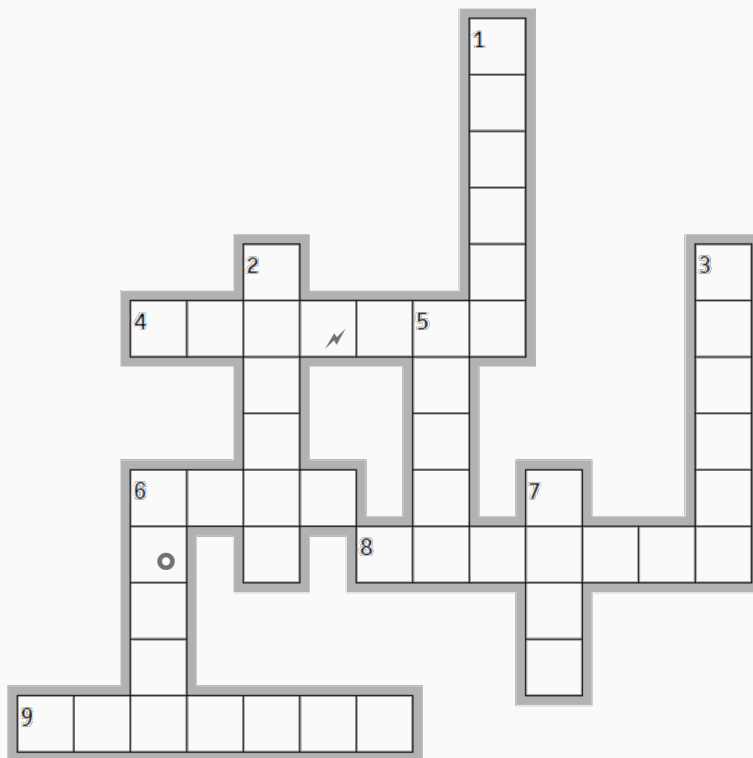
👉 Complète ces **mots croisés** utilisant des mots japonais.

Horizontal ↔

4. grandes vagues pouvant provoquées des inondations
6. lutte pratiquée par des athlètes imposants
8. guerrier japonais
9. art de plier le papier notamment dans des formes d'animaux

Vertical ↑↓

1. arbre miniature taillé de façon artistique
2. bâtonnet à base de chair de poisson et de crabe
3. grand tapis épais utilisé pour les arts martiaux
5. bande dessinée japonaise
6. boulette de riz couverte de poisson cru
7. sport de combat



2

👉 Complète cette grille de **sudoku**.

Chaque ligne, chaque colonne et chaque case rectangulaire doivent comprendre chaque chiffre de 1 à 6 (une seule fois).

		3		1	
5	6	⊞	3	2	
	5	4	2		3
2		6	4	5	
	1	2		4	5
	4	✈️	1		

3

👉 Remets les lettres dans l'ordre pour trouver le nom d'une **montagne sacrée** au Japon.

U - J - F - I

le mont



Sur ton planisphère, colorie le Japon en !

JOUR 16 : LA CHINE



👁️ Reporte les lettres correspondant aux symboles pour découvrir la couleur du pays. Pour les chiffres, 1 = A, 2 = B, 3 = C...

1

👉 Complète les phrases à l'aide de la bonne **punctuation** : . ? ou !

Quel magnifique panda

Combien mesure la grande muraille

Prends du riz il est excellent

As-tu visité cette pagode

J'ai appris à parler le mandarin il y a quelques années

👉 Combien de **points d'interrogation (?)** as-tu utilisés ?

2

👁️ Le tir à l'arc est un sport traditionnel en Chine depuis très longtemps.

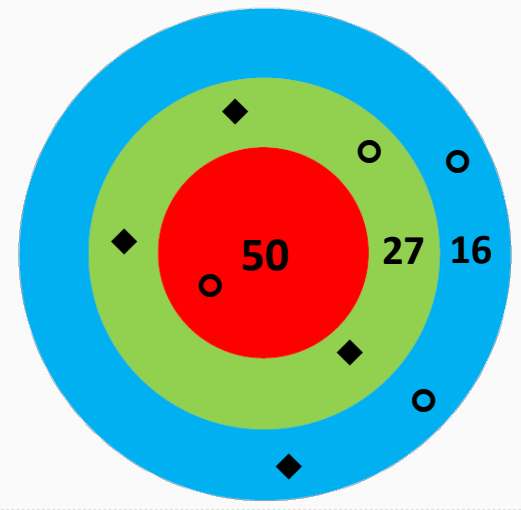
Observe la cible et **calcule le score** obtenu :

- par Chen (flèches en forme de **◆**)
- par Mila (flèches en forme de **○**).

Score de Chen :

Score de Mila :

👉 Qui a marqué le plus de points ?



3

👉 La Chine est le pays le plus peuplé au monde.

Elle compte un-milliard-quatre-cent-millions-cinquante-mille. **Écris ce nombre en chiffres :**

<input type="text"/>	<input type="text"/>	<input type="text"/>	<input type="text"/>	<input type="text"/>	<input type="text"/>	<input type="text"/>	<input type="text"/>	<input type="text"/>	<input type="text"/>
----------------------	----------------------	----------------------	----------------------	----------------------	----------------------	----------------------	----------------------	----------------------	----------------------

4

👉 Remets les lettres dans l'ordre pour trouver le nom de la **capitale de la Chine**.

É - N - P - K - I

<input type="text"/>	<input type="text"/>	<input type="text"/>	<input type="text"/>	<input type="text"/>
----------------------	----------------------	----------------------	----------------------	----------------------



Sur ton planisphère, colorie la Chine en !



JOUR 17 : LA RUSSIE



👁️ Reporte les lettres correspondant aux symboles pour découvrir la couleur du pays. Pour les chiffres, 1 = A, 2 = B, 3 = C...

1

✍️ Entoure les erreurs de cette dictée. 🖱️ Combien en as-tu trouvées ?

Le Bolchoï est un théâtre situé dans le centre de Moscou, en Russie. On y joue des pièces de théâtre, des opéras, des ballets, des concerts de musique classique et d'autres représentations artistiques. Plus qu'une simple compagnie de théâtre renommée à travers le monde, le Bolchoï est un symbole de Moscou, et plus largement de la culture russe.

2

👁️ Le Transsibérien est une ligne de chemin de fer très connue qui traverse la Russie.

À Moscou, 1384 personnes montent à bord d'un train. À Omsk, 57 personnes montent dans le train et 23 en descendent. À Chita, 20 personnes montent et 63 personnes descendent du train. Aucune personne ne monte ni ne descend aux autres arrêts.

✍️ Combien de personnes sont à bord du train à l'arrivée à Vladivostok ?

Il y a personnes à l'arrivée.



3

✍️ Sur une feuille de brouillon, trace un rectangle ABCD tel que AB = 10 cm et BC = 6 cm

Place un point E sur le segment [AD] à 2 cm du point A.

Place un point G sur le segment [AD] à 2 cm du point D.

Place un point F sur le segment [BC] à 2 cm du point B.

Trace une droite parallèle à la droite (EF) passant par G. Ça y est tu as construit le drapeau russe !

✍️ On peut dire que la droite (EF) est à la droite (AB).

4

✍️ Remets les lettres dans l'ordre pour trouver le nom de la capitale de la Russie.

O - M - O - S - C - U



Sur ton planisphère, colorie la Russie en !



JOUR 18 : L'INDE



👁️ Reporte les lettres correspondant aux symboles pour découvrir la couleur du pays. Pour les chiffres, 1 = A, 2 = B, 3 = C...

1

👉 Associe chaque définition à ces mots faisant référence à l'Inde.

- a) mélange d'épices séchées et moulues
- b) vêtement traditionnel des femmes indiennes constitué d'un drap sans épingles
- c) adepte d'une religion pratiquée par la majorité des Indiens
- d) petit pâté de viande ou de légumes entouré de pâte de forme triangulaire
- e) nom donné au cinéma indien

samosa

Bollywood

curry

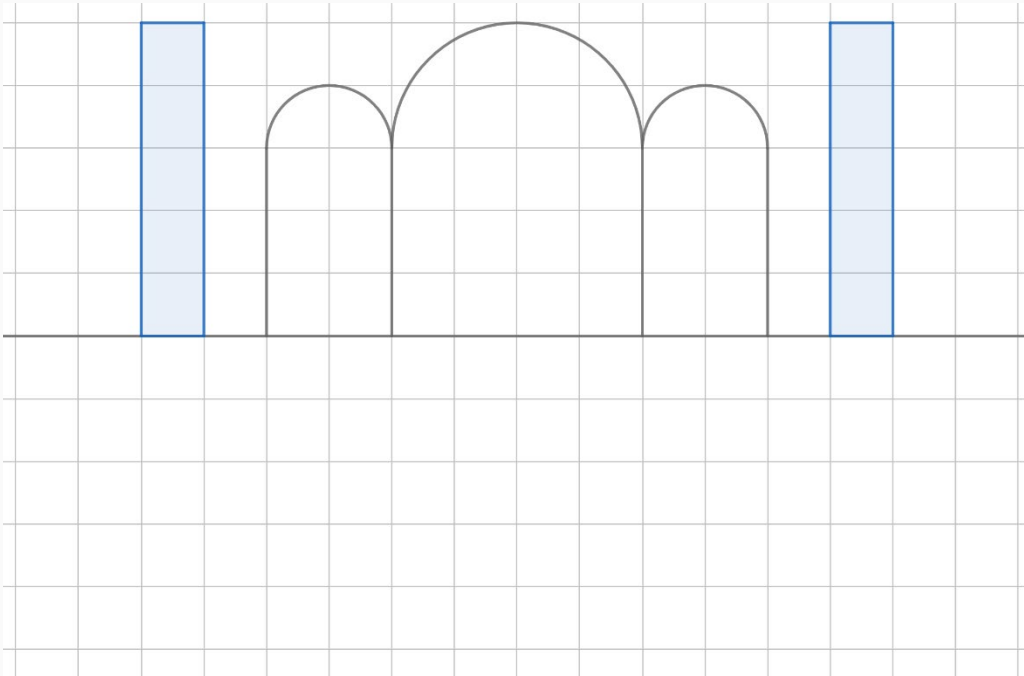


sari

hindou

2

👉 Le Taj-Mahal est un palais indien célèbre dans le monde entier. Il se reflète dans un bassin. Trace le **symétrique** de cette figure le représentant.



3

👉 Slumdog Millionaire est un célèbre film qui se déroule en Inde.

Il dure 120 minutes.

Si je commence à le regarder à 19h, à quelle heure vais-je terminer ?

Je vais terminer le film à heures.



4

👉 Sur quel **continent** se trouve l'Inde ?

L'Inde se trouve en



Sur ton planisphère, colorie l'Inde en !



JOUR 19 : LA TURQUIE



👁️ Reporte les lettres correspondant aux symboles pour découvrir la couleur du pays. Pour les chiffres, 1 = A, 2 = B, 3 = C...

1

👁️ Lis ce texte sur l'histoire du kebab.

D'après la légende, les soldats ottomans du Moyen Âge utilisaient leur épée pour se faire griller des morceaux de viande, à la verticale. Cette cuisson à la broche aurait donné naissance à la viande de kebab. Mais qu'en est-il du sandwich ?

Sandwich populaire par excellence, le kébab, avec son nom turc, est en réalité né en Allemagne. A 16 ans, le jeune Mehmet Aygün quitte sa Turquie natale pour aller vivre à Berlin. En 1971, Mehmet travaille dans un petit snack de la gare de Berlin, où il sert de la viande grillée. Il a alors l'idée de placer les lamelles de mouton dans un pain pita, le pain rond traditionnel de Méditerranée orientale. Il y ajoute de la salade et des frites. Plus tard, viendront se mêler tomates, oignons et sauce blanche, une autre création du cuisinier turc.

Le Döner Kebab était né, döner désignant le mode de cuisson sur broche tournante et kebab signifiant viande grillée. Le sandwich va rapidement s'exporter... jusqu'en Turquie !

👉 Qu'utilisaient les soldats ottomans pour faire griller leur viande ?

- a) une lance b) une épée c) une broche 🗣️ Réponse :

👉 Que veut dire « kebab » en turc ? e) viande grillée f) sandwich g) broche 🗣️ Réponse :

👉 Quelle viande est utilisée dans le kebab ? h) le bœuf i) le porc j) le mouton 🗣️ Réponse :

👉 Dans quel pays le sandwich kebab est-il réellement né ? l) Turquie m) France n) Allemagne 🗣️ Réponse :

2



👁️ La Turquie attire de nombreux touristes et notamment des randonneurs. Une des régions les plus visitées est la Cappadoce. Un groupe de randonneurs décide d'y faire un trekking. Voici les distances parcourues par étape.

lundi : 11,8 km mardi : 16 km mercredi : 23 km jeudi : 19,3 km vendredi : 21,2 km

🗣️ Les randonneurs ont déjà parcouru 60 km, quel jour sommes-nous ?

🗣️ Quelle est la distance totale parcourue par les randonneurs ? km

3

Sainte-Sophie est un célèbre monument d'Istanbul, ville de Turquie.

👁️ Observe bien l'image et 🗣️ complète la phrase.

Elle a d'abord servi de basiliques pour les chrétiens, puis de

pour les musulmans.



Sur ton planisphère, colorie la Turquie en !



JOUR 20 : L'ÉTHIOPIE



👁️ Reporte les lettres correspondant aux symboles pour découvrir la couleur du pays. Pour les chiffres, 1 = A, 2 = B, 3 = C...

1

👉 Numérote ces mots pour les ranger dans l'ordre alphabétique.

café	églises	calendrier	altitude	éléphant	plateaux	crocodile	chèvre
<input type="text"/>	<input type="text"/>	<input type="text"/>	<input type="text"/>	<input type="text"/>	<input type="text"/>	<input type="text"/>	<input type="text"/>

2

👉 Complète les phrases avec **a** ou **à**. Aide : <https://huit.re/aideaoua>

Il est arrivé Addis-Abeba. Elle acheté des grains de café ce producteur.

Cette église été taillée la main dans la roche. J'ai vu un éléphant travers les jumelles.

👉 Combien de fois as-tu utilisé « a » ?

3

👁️ L'Éthiopie est un pays réputé pour **ces coureurs longue distance** qui s'entraînent en altitude sur les hauts plateaux. Un groupe de coureurs réalise **30 tours d'une piste mesurant 400m**.

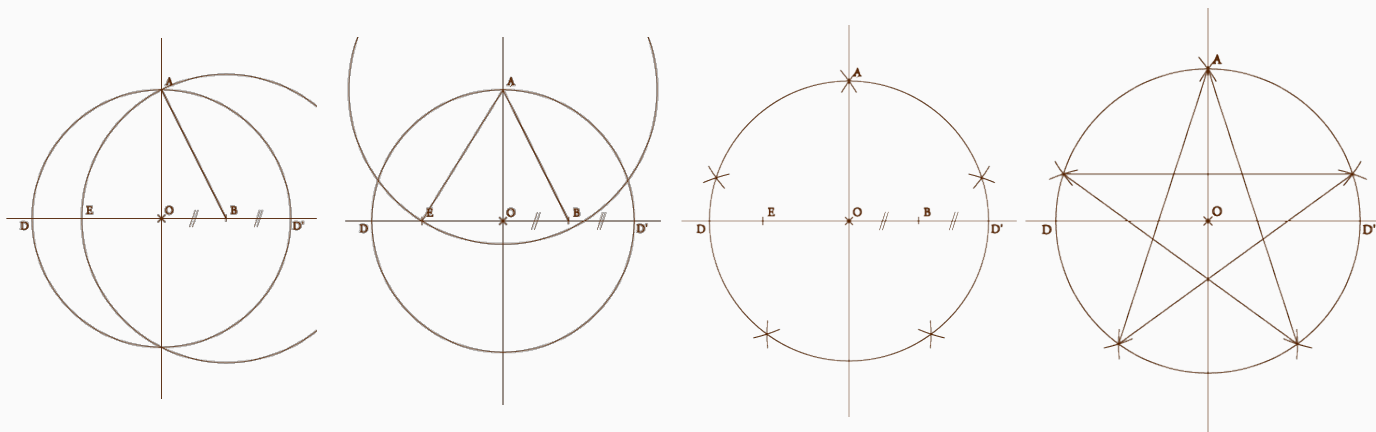
👉 Quelle **distance totale** ont-ils parcourue ? m

👉 Combien cela fait-il en **km** ? km

4

👉 L'étoile à 5 branches est un **symbole du drapeau éthiopien**.

Sur une feuille de brouillon, en t'aidant de la vidéo suivante <https://huit.re/aideetoile> et des schémas, essaye de **tracer cette étoile à 5 branches**.



5

👉 Remets les lettres dans l'ordre pour découvrir le nom d'un célèbre **australopithèque** découvert en Éthiopie. U - Y - C - L

Cet australopithèque est



Sur ton planisphère, colorie l'Éthiopie en !