



👁️ Reporte les lettres correspondant aux symboles pour découvrir la citation. Pour les chiffres, 1 = A, 2 = B, 3 = C...

1

👉 Remets ces lettres dans l'ordre pour trouver un nom de métier.

N - O - A - Ç - M ▶

2

👉 Pour chaque mot, écris s'il s'agit d'un nom (N), d'un déterminant (D), d'un adjectif (A) ou d'un verbe (V).

Mon frère joue de la guitare électrique.

3

👉 Orthographe correctement le mot correspondant à chaque image.

	<input type="text"/>	<input type="text"/>	<input type="text"/>	<input type="text"/>	<input type="text"/>	<input type="text"/>	<input type="text"/>		<input type="text"/>	<input type="text"/>	<input type="text"/>	<input type="text"/>	<input type="text"/>	<input type="text"/>		<input type="text"/>	<input type="text"/>	<input type="text"/>	<input type="text"/>	<input type="text"/>	<input type="text"/>
	<input type="text"/>	<input type="text"/>	<input type="text"/>	<input type="text"/>	<input type="text"/>	<input type="text"/>	<input type="text"/>		<input type="text"/>	<input type="text"/>	<input type="text"/>	<input type="text"/>	<input type="text"/>	<input type="text"/>		<input type="text"/>	<input type="text"/>	<input type="text"/>	<input type="text"/>	<input type="text"/>	<input type="text"/>

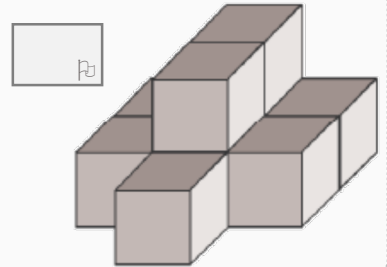
4

👉 Complète ces opérations à trous.

$\begin{array}{r} 7 \square 1 \\ + \square 3 \square \\ \hline 1055 \end{array}$	$\begin{array}{r} 251 \\ + \square \square \square \\ \hline 438 \end{array}$	$\begin{array}{r} \square \square 9 \\ - 25 \square \\ \hline 232 \end{array}$	$\begin{array}{r} 783 \\ - \square \square \square \\ \hline 501 \end{array}$	$\begin{array}{r} 291 \\ - \square \square \square \\ \hline 109 \end{array}$
--	---	--	---	---

5

👉 Combien faut-il empiler de cubes pour réaliser cette construction ?



6

👉 Si je dors pendant 300 minutes, pendant combien d'heures ai-je dormi ?

7

👉 Complète la phrase suivante.

La population mondiale compte plus de d'habitants.

8

👉 Comment s'appelle la partie du château dans lequel le seigneur habite ?



un

J'ai appris que le n'est pas l' de peur, mais la capacité à la ! N.M



👁️ Reporte les lettres correspondant aux symboles pour découvrir la citation. Pour les chiffres, 1 = A, 2 = B, 3 = C...

1

👉 Complète ces mots avec le bon préfixe pour écrire le contraire.

mobile coller obéir honnête légal correct

2

👉 Complète la phrase avec **ver**, **verre**, **vers** ou **vert**.

midi, j'ai bu un sirop dans mon préféré.

3

👉 Indique la phrase est conjuguée au **présent (P)**, à **l'imparfait (I)** ou au **futur (F)**.

Adèle verra son chien lundi. Nous allons au lycée.
La pluie tombait depuis plusieurs jours. Nous ferons de notre mieux.
Elle marque un but de la tête. Le poney dort.

4

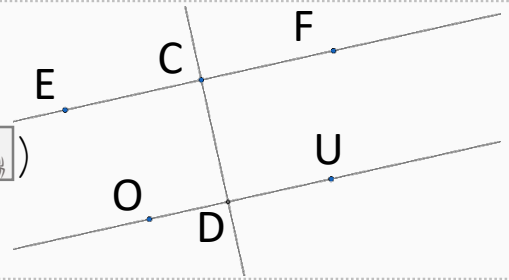
👉 Écris le résultat des ces **multiplications**.

4 x 7 = 6 x 8 =
5 x 9 = 6 x 6 =
4 x 4 = 9 x 4 =
3 x 9 = 6 x 3 =
7 x 8 = 7 x 5 =

5

👉 Complète cette phrase en observant **la figure**.

La droite (EF) est parallèle à la droite ()



6

👉 Dans un restaurant, 4 tables de 5 sont remplies, 3 tables de 2 et 2 tables de 4.

Combien y a t-il de clients dans le restaurant ?

7



👉 À quel pays appartient ce **drapeau** ?

8

👉 Qui est ce **personnage historique** ?



Citation du jour : La chose d'avance à
l', c'est celle que l'on ne pas. P.E Victor



👁️ Reporte les lettres correspondant aux symboles pour découvrir la citation. Pour les chiffres, 1 = A, 2 = B, 3 = C...

1

👉 Réécris les mots de la phrase **dans l'ordre** pour qu'elle ait un **sens**.

seras - tu - grande - nouvelle - courant - au - cette - de

□	□	□	□	□	□	□	□	□	□	□	□	□	□	□	□	□	□	□	□
□	□	□	□	□	□	□	□	□	□	□	□	□	□	□	□	□	□	□	□

2

👉 Complète cette phrase avec les bonnes terminaisons : **ons** et **ent**.

Mon ami et moi jou

□	□	□
---	---	---

 souvent avec des camarades qui habit

□	□	□
---	---	---

 dans le village.

3

👉 J'ai acheté une robe à 32€, un T-shirt à 8,40€ et un pantalon à 27,90€.

Combien ai-je dépensé ?

□	□	□	□
---	---	---	---

 €

4

👉 Complète cette suite logique : 47 - 51 - 55 -

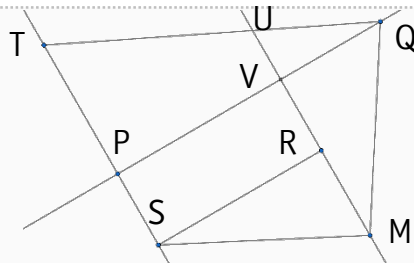
□	□
---	---

5

👉 Complète la phrase (nomme la figure de gauche à droite dans le sens des aiguilles d'une montre).

□	□	□	□
---	---	---	---

 est un **rectangle**.



6

👉 Écris le nom de ces **couleurs** en **anglais**.

bleu ➔

□	□	□	□
---	---	---	---

 rose ➔

□	□	□	□
---	---	---	---

 vert ➔

□	□	□	□	□
---	---	---	---	---

 jaune ➔

□	□	□	□	□	□
---	---	---	---	---	---

7

👉 Comment s'appelle cet **océan** ?

□	□	□	□	□	□	□	□	□	□
---	---	---	---	---	---	---	---	---	---



8

👉 Comment s'appelle ce type de **bâtiment religieux** ?

une

□	□	□	□	□	□	□
---	---	---	---	---	---	---



Citation du jour :

Un

□	□	□	□	□	□	□
---	---	---	---	---	---	---

 de mille

□	□	□	□	□	□	□
---	---	---	---	---	---	---

□	□	□	□	□	□	□
---	---	---	---	---	---	---

 par un

□	□	□	□
---	---	---	---

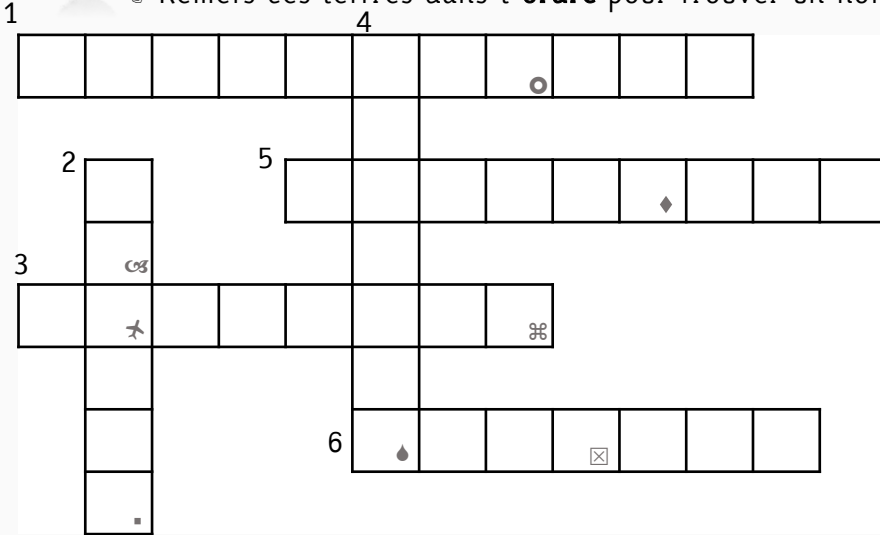
 !

Lao Tseu



1

Remets ces lettres dans l'ordre pour trouver un nom de métier.



- 1- Il tourne les films.
- 2- Il défend un prévenu ou une victime.
- 3- Personne procédant aux soins de la chevelure
- 4- Il travaille le métal.
- 5- Il prépare des plats.
- 6- Il transporte des marchandises.

2

Complète cette opération à trous en plaçant les chiffres 1, 4 et 5 au bon endroit.

Attention à la priorité des opérations : pour t'aider <https://huit.re/priorite>

$$8 + \square - \square \times \square = 9$$

3

Range ces nombres décimaux dans l'ordre croissant (du plus petit au plus grand).

1,05 - 0,80 - 1,9 - 1,250 - 2,5 - 1,50 - 0,250



4

Traduis le nom de ces animaux en français.

pig ➔

bear ➔

fish ➔

dog ➔

5



Quel pays est représenté par ce drapeau ?



6

Comment s'appelle la religion des musulmans ? l'



Le seul où le succès précède le c'est dans le . Donald Kendall



👁️ Reporte les lettres correspondant aux symboles pour découvrir la citation. Pour les chiffres, 1 = A, 2 = B, 3 = C...

1 🗑️ Arthur pose une nappe sur l'herbe, sort des sandwiches et un paquet de chips.
Que s'apprête-t-il à faire ? un 

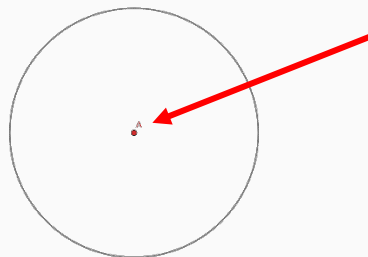
2 🗨️ Réécris cette phrase au futur. ➡️ Ils attendent le car. Aide : <http://huit.re/aidefutur>
 


3 🗨️ Remets ces lettres dans l'ordre pour trouver un synonyme du verbe « aimer ».
É - I - H - C - R - R ➤ 

4 🗨️ Complète ces opérations à trous.

$$\begin{array}{r}
 3 \square 1 \\
 + \square 5 \square \\
 \hline
 7 \ 3 \ 9
 \end{array}
 \quad
 \begin{array}{r}
 9 \square 0 \\
 + \square 2 \square \\
 \hline
 1 \ 8 \ 1 \ 8
 \end{array}
 \quad
 \begin{array}{r}
 7 \square 8 \\
 - \square 3 \square \\
 \hline
 3 \ 6 \ 2
 \end{array}
 \quad
 \begin{array}{r}
 \square \ 4 \square \\
 - \quad 7 \ 8 \\
 \hline
 1 \square 2
 \end{array}
 \quad
 \begin{array}{r}
 3 \ 6 \ 4 \\
 + \square \square \square \\
 \hline
 8 \ 3 \ 5
 \end{array}$$

5 🗨️ Comment appelle-t-on ce point dans un cercle ?
Le



6 🗨️ J'ai commencé à regarder un film à 20h30. Le film dure 1h40.
À quelle heure va-t-il se terminer ?  h



7 🗨️ Comment s'appelle cet océan ?
  



8 🗨️ Comment s'appelle ce personnage ?

Citation du jour :

Si vous Z su en rêver, vous Z

le

Walt Disney



👁️ Reporte les lettres correspondant aux symboles pour découvrir la citation. Pour les chiffres, 1 = A, 2 = B, 3 = C...

1 🗣️ Classe ces mots dans l'ordre alphabétique : poil – pain – page – port – mule

2 🗣️ Conjugue le verbe parler à l'imparfait. Aide : <https://huit.re/aideimparfait>

je tu il/elle nous vous ils/elles

3 🗣️ Complète cette grille de sudokus.

Chaque ligne, chaque colonne et chaque case rectangulaire doivent comprendre chaque chiffre de 1 à 6 (une seule fois).

<input type="text"/>	<input type="text"/>	3	<input type="text"/>	1	<input type="text"/>
5	6	<input type="text"/>	3	2	<input type="text"/>
<input type="text"/>	5	4	2	<input type="text"/>	3
2	<input type="text"/>	6	4	5	<input type="text"/>
<input type="text"/>	1	2	<input type="text"/>	4	5
<input type="text"/>	4	<input type="text"/>	1	<input type="text"/>	<input type="text"/>

4 🗣️ Écris ces fractions en chiffres.

un tiers $\frac{\text{input type="text"}}{\text{input type="text"}}$ cinq dix-septièmes $\frac{\text{input type="text"}}{\text{input type="text"}}$ trois demis $\frac{\text{input type="text"}}{\text{input type="text"}}$ douze quarts $\frac{\text{input type="text"}}{\text{input type="text"}}$

5 🗣️ Écris ces chiffres en anglais.

7 ➡ 9 ➡ 2 ➡ 8 ➡

6 🗣️ Comment s'appelle ce continent ?

l'

7 🗣️ Comment s'appelle la longue guerre du Moyen Âge entre les Anglais et les Français ?

la guerre de 

