


Je connais les types d'énergie utilisés avant la révolution industrielle.

Nom : _____ Prénom : _____ Classe : _____

La révolution industrielle (vers 1850) marque un tournant dans l'histoire de l'énergie. Voici une ferme de 1830. Quelles-étaient les énergies utilisées ?



Remplacez dans les cadres ci-dessus les différentes sources d'énergies utilisées à cette époque. Quel genre de source d'énergie était-ce ?

Expliquez pourquoi l'homme utilisait ces sources d'énergie ?


Je connais les types d'énergie utilisés pendant la révolution industrielle.

Nom : _____ Prénom : _____ Classe : _____

Lors de la révolution industrielle, l'homme à commencé à utiliser une nouvelle source d'énergie fossile. Laquelle ?

Cette source d'énergie était utilisée pour le chauffage mais aussi pour d'autres utilisations. Lesquelles ?






D'autres sources d'énergies commencent aussi à être utilisées. Exemple :



Je compare les types d'énergie utilisés avant la révolution industrielle et actuellement.



Nom : _____ Prénom : _____ Classe : _____

Comparons l'utilisation d'énergie d'une maison de 1830 avec celle d'une maison actuelle. Entourez sur les images ci-dessous ce qui consomme de l'énergie.



Précisez quelle source d'énergie pour quelle utilisation :

Maison 1830 :

Maison actuelle :

Je sais qu'un produit utilise de l'énergie d'une manière directe et indirecte.

Nom : _____ Prénom : _____ Classe : _____

Si on compare le style de vie actuel à celui de 1830, combien consomme-t-on d'énergie en plus ?



Précisez quelle source d'énergie utilisent les voitures :



Une voiture utilise de l'énergie d'une manière directe pour fonctionner, mais quelle genre d'énergie utilise-t-elle aussi ?