

JOUR 21 : MAGASINIER



👁️ Reporte les lettres correspondant aux symboles pour découvrir comment colorier le pixel art. Pour les chiffres, 1 = A, 2 = B, 3 = C...

1

📺 Regarde cette vidéo sur le métier de magasinier : <https://huit.re/magasinier>

👉 En quoi consiste le métier de magasinier ?

.....

.....

👉 Quel diplôme est nécessaire pour conduire les engins ?

- le permis B le BSR le permis poids-lourds le CACES

👉 Quel objet est indispensable pour assurer la sécurité des caristes? 🗣️

- o) un masque i) une blouse u) des lunettes de protection e) des chaussures de sécurité

👉 Qu'apprécie Wilfried dans son travail ?

.....

.....

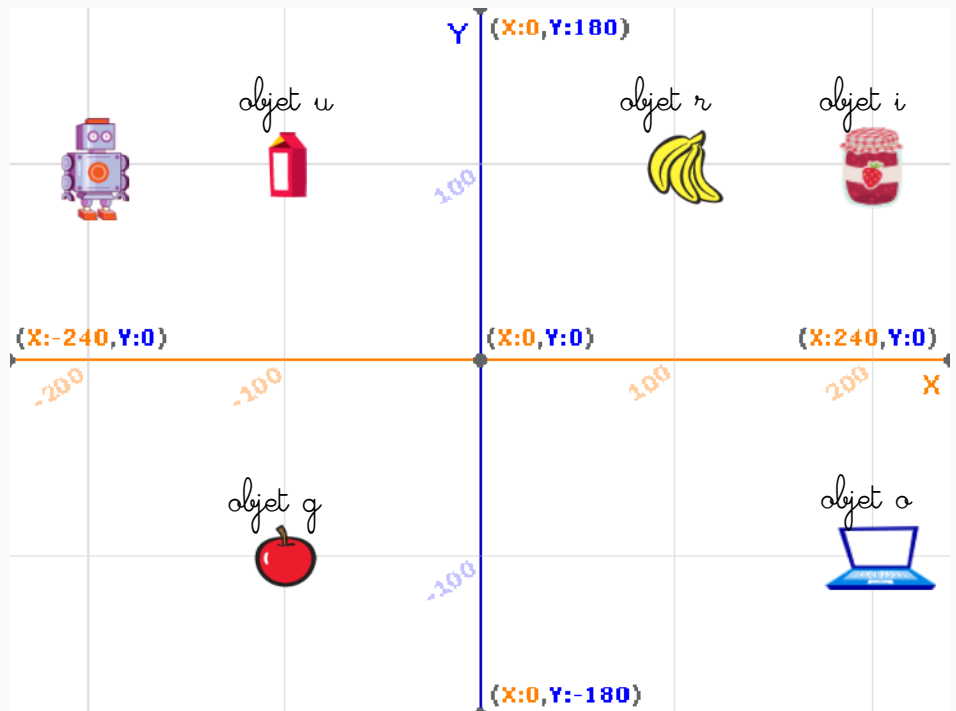
2

👁️ L'entreprise dans laquelle travaille Wilfried essaye de mettre en place des robots pour préparer les commandes.

Voici le trajet effectué

par le robot :

- + 400 en x
- 200 en y
- 100 en x
- + 200 en y
- 100 en x
- 200 en y
- 100 en x
- + 200 en y



👉 Trace le chemin effectué par le robot.

👉 Réécris les lettres des objets dans l'ordre dans lequel ils ont été cherchés par le robot.

COLORIE EN LES CASES : L11, M11, K12, L12, M12, N12, K13, L13, M13, N13, O13, M14, N14, O14



JOUR 22 : MÉCANICIEN EN MATÉRIEL AGRICOLE

👁️ Reporte les lettres correspondant aux symboles pour découvrir comment colorier le pixel art. Pour les chiffres, 1 = A, 2 = B, 3 = C...



1

📺 Regarde cette vidéo sur le métier de mécanicien agricole : <https://huit.re/mecanicienagricole>

👂 Quelles sont les **qualités nécessaires** pour être mécanicien agricole ?

.....
.....

👉 Selon François, quelles peuvent être les **contraintes** (= désavantages) de ce métier ?

- se déplacer beaucoup travailler seul travailler dans le bruit
- travailler tous les jours pendant les récoltes avoir beaucoup de pression

👂 Qu'**apprécie** François dans son travail ?

.....
.....

2

👁️ Tu souhaites effectuer un stage dans l'entreprise de François.

Aide : <https://huit.re/lettremotiv>

👂 Remets ces éléments de la lettre de motivation dans l'ordre.



i) Bully, le 29 mai 2020

e) Je suis actuellement élève en 3^{ème} SEGPA au collège Albert Schweitzer de Neufchâtel-en-Bray. Je suis à la recherche d'un stage pour la période du 2 au 12 juin.

o) Dans l'attente d'une réponse favorable de votre part, je vous prie d'accepter, Monsieur, mes sincères salutations.

g) Entreprise Guerard, Boulevard industriel, 76270 Neufchâtel-en-Bray

v) Tom Leclerc *Leclerc*

j) En effet, je suis passionné par la mécanique agricole et souhaiterais en faire mon métier. Je suis curieux, sérieux et très à l'écoute des consignes et saurai vous apporter mon aide dans les travaux demandés.

l) Objet : recherche de stage

t) Monsieur,

r) Tom Leclerc, 8, rue de la Mairie, 76270 Bully



COLORIE EN LES CASES : I2, J2, K2, L2, H3, I3, J3, K3, L3, M3, G4, H4, J4, K4, M4, N4, G5, H5, J5, K5, M5, N5, F6, G6, H6, I6, J6, K6, L6, M6, N6, O6, F7, H7, I7, J7, K7, L7, M7, O7, E8, F8, O8, P8, D9, E9, F9, O9, P9, Q9, C10, D10, F10, O10, Q10, R10, B11, C11, E11, F11, O11, P11, R11, S11, B12, C12, E12, F12, G12, H12, I12,

JOUR 23 : MENUISIER



👁️ Reporte les lettres correspondant aux symboles pour découvrir comment colorier le pixel art. Pour les chiffres, 1 = A, 2 = B, 3 = C...

1

📺 Regarde cette vidéo sur le métier de menuisier : <https://huit.re/menuisier>

👉 Selon Guillaume, quelles sont les **qualités nécessaires** d'un menuisier ?

.....

.....

👉 Quels sont les **avantages** de la **machine à commande numérique** ?

.....

.....

👉 Quel est le **projet** de Guillaume ? ↗

o) construire sa maison p) devenir enseignant dans un CFA r) devenir chef d'entreprise

2

👉 Écris le nom de chacun de ces **outils** utilisés par un menuisier.



		⊗					
--	--	---	--	--	--	--	--

--	--	--	--

			○
--	--	--	---

--	--	--	--

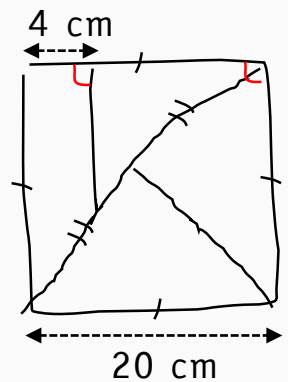
	↑		
--	---	--	--

3

👁️ Tu dois construire un tangram (puzzle pour enfants) en bois dont voici le schéma.

👉 Trace cette figure à l'aide de tes instruments de géométrie en réduisant les longueurs données.

1 cm sur ta figure correspondra à 4 cm sur les mesures indiquées.



COLORIE EN

⊗	○	↑	↗
---	---	---	---

LES CASES : I1, J1, K1, L1, H2, M2, G3, N3, F4, I4, L4, O4, F5, I5, L5, O5, E6, P6, E7, G7, N7, P7, D8, G8, H8, I8, J8, K8, L8, M8, N8, Q8, C9, G9, H9, I9, J9, K9, L9, M9, N9, R9, B10, E10, G10, H10, I10, J10, K10, L10, M10, N10, P10, S10, A11, D11, G11

JOUR 24 : OUVRIER-PAYSAGISTE



👁️ Reporte les lettres correspondant aux symboles pour découvrir comment colorier le pixel art. Pour les chiffres, 1 = A, 2 = B, 3 = C...

1

📺 Regarde cette vidéo sur le métier d'ouvrier-paysagiste : <https://huit.re/ouvrierpaysagiste>

👉 Durant quelle saison l'activité des ouvriers paysagistes ralentit-elle ? ↗

- m) le printemps r) l'été p) l'automne v) l'hiver

👉 Qu'apprécie Amanda dans son travail ?

.....

.....

👉 Quelles sont les qualités nécessaires pour exercer ce métier ?

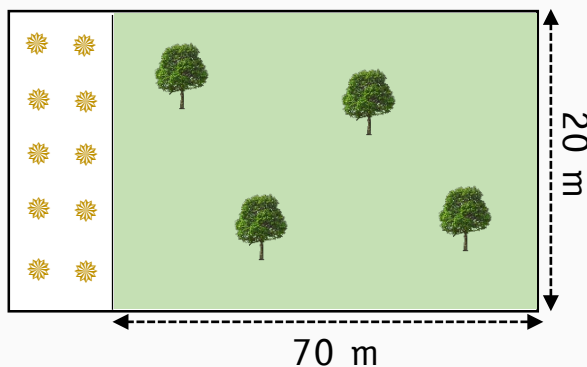
.....

.....

2

👁️ Une commune demande à son paysagiste de refaire un parc. Une partie du parc sera engazonnée (1 paquet de gazon pour 35m²) avec quelques arbres (4 pommiers), il y aura également un parterre de fleurs (avec 10 dahlias).

Voici le plan de ce parc.



Gazon universel GEOLIA, 1 kg, 35 m²
★★★★☆ 21 avis
7.90 €

👉 Complète le devis suivant :

Produits	Prix	Quantité souhaitée	Total
Dahlias	14,99 €	<input type="text"/>	<input type="text"/> , <input type="text"/>
<input type="text"/>	<input type="text"/> , <input type="text"/>	4	<input type="text"/> , <input type="text"/>
<input type="text"/>	7,90 €	<input type="text"/>	<input type="text"/> , <input type="text"/>
			<input type="text"/> , <input type="text"/>

COLORIE EN



LES CASES : H11, I11, J11, K11, N11, Q11, T11, A12, D12, Q12, T12, A13, D13, Q13, T13, B14, C14, D14, Q14, R14, S14, E15, P15, F16, O16, G17, N17, H18, I18, J18, K18, L18, M18

JOUR 25 : PÂTISSIER



👁️ Reporte les lettres correspondant aux symboles pour découvrir comment colorier le pixel art. Pour les chiffres, 1 = A, 2 = B, 3 = C...

1

📺 Regarde cette vidéo sur le métier de pâtissier : <https://huit.re/metierpatissier>

👉 Selon Clément, quel est le principal avantage du métier de pâtissier ? ↑

- t) travailler au chaud r) ne pas avoir de limites dans la création n) gagner de l'argent
 m) être son propre patron g) pouvoir manger les préparations l) finir tôt

👉 Selon Clément, quelles sont les principales contraintes du métier ?

.....
.....

👉 Quel est l'objectif de Clément lorsqu'il crée un gâteau ?

.....
.....

2

👉 Dans tous ces mots, surligne ceux qui ne font pas référence à la pâtisserie.

bain-marie glaçage pelage dorure zeste douille
 praliné gommage blanchir craquelin passeport dacquoise
 correcteur sabayon entremets meringue vidange framipane

👉 Combien de mots intrus as-tu trouvés ?

3

👁️ Voici les ingrédients nécessaires pour réaliser 40 chouquettes : 20 cL d'eau, 90g de beurre doux, 140g de farine, 4 œufs, 9 cuillères à soupe de sucre, 6 cuillères à café de sel, 8 cuillères à café de levure.



👉 Quelle quantité de chaque ingrédient faut-il pour réaliser 100 chouquettes ?

eau ▶ cL

sucre ▶ , cuillères à soupe

beurre doux ▶ g

sel ▶ cuillères à café

farine ▶ g

levure ▶ cuillères à café

œufs ▶

COLORIE EN LES CASES : J12, O12, P12, R12, S12, B13, C13, E13, F13, G13, H13, I13, J13, P13, R13, S13, E14, F14, G14, H14, I14, J14, K14, L14, P14, F15, G15, H15, I15, J15, K15, L15, M15, N15, O15, G16, H16, I16, J16, K16, L16, M16, N16, H17, I17, J17, K17, L17, M17