




SEMAINE 2



👁️ Chaque jour de la semaine, tu vas découvrir différents métiers.
À la fin de tes activités tu trouveras des indications pour colorier ce
pixel art et découvrir l'objet qui s'y cache.
Bonne chance !

	A	B	C	D	E	F	G	H	I	J	K	L	M	N	O	P	Q
1																	
2																	
3																	
4																	
5																	
6																	
7																	
8																	
9																	
10																	
11																	
12																	
13																	
14																	
15																	

PREMIER INDICE :

COLORIE EN VERT CLAIR LES CASES : G2, I2, G3, I3, K3, C4, D4, G4,

I4, N4, O4, D5, E5, F5, G5, H5, I5, J5, K5, L5, M5, N5, D6, F6, G6, H6,

I6, J6, L6, M6, E7, F7, G7, H7, I7, J7, K7, L7, F8, G8, J8, K8

JOUR 6 : BOULANGER



👁️ Reporte les lettres correspondant aux symboles pour découvrir comment colorier le pixel art. Pour les chiffres, 1 = A, 2 = B, 3 = C...

1

👁️ Regarde cette vidéo sur le métier de boulanger : <https://huit.re/boulangier>

👉 Quel **diplôme** a obtenu Fabien ?

👉 Qu'est-ce qui **plaît** à Fabien dans son travail ?

inventer des recettes rendre les clients heureux travailler que le matin

travailler à l'intérieur travailler avec sa femme avoir de longues vacances

👉 Quels sont les **inconvenients** (=désavantages) du métier de David ?

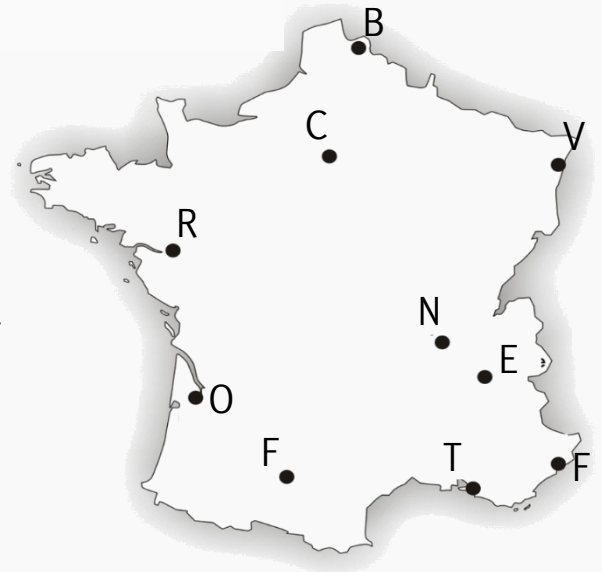
.....

.....

2

👁️ Lors de son tour de France avec les compagnons, Fabien est passé par les villes françaises suivantes : Strasbourg, Lille, Nantes, Marseille, Toulouse, Bordeaux, Lyon et Paris.

👉 Trace son itinéraire sur la carte.



👉 Reporte les lettres dans l'ordre du trajet effectué.

☒		○	↗	👉	⌚	✖	💧
---	--	---	---	---	---	---	---

3

👁️ Fabien réalise une commande de farine auprès de son fournisseur. Il lui faut **10 sacs** de farine de type 65 et **6 sacs** de farine de type 55.

Chaque sac de farine de type 65 coûte **63,70€** et chaque sac de type 55 coûte **58 €**.

👉 Combien le fournisseur va-t-il facturer Fabien pour cette commande ? €

COLORIE EN

☒	↑	○	↗	👉	⌚	✖	💧	↑
---	---	---	---	---	---	---	---	---

LES CASES : H2, J2, F3, H3, J3, B4,

E4, F4, H4, J4, K4, M4, P4, C5, O5, H8, I8, D11, N12, G14, H14, K14, L14

JOUR 7 : CAISSIER



👁️ Reporte les lettres correspondant aux symboles pour découvrir comment colorier le pixel art. Pour les chiffres, 1 = A, 2 = B, 3 = C..

1

📺 Regarde cette vidéo sur le métier de caissier : <https://huit.re/caissier>

👉 Que doit faire Aurélia quand elle prend son service ?

.....
.....

👉 Selon Aurélia, quelles sont les **qualités nécessaires** pour exercer le métier de caissier ?

- être doux parler plusieurs langues être souriant être créatif
- être dynamique être musclé avoir le sens de l'observation

👉 Qu'apprécie Aurélia dans son travail ?

.....
.....

2

👁️ Aurélia doit aller ranger dans les rayons des produits qui ont été laissés à la caisse. Elle trouve des produits mal rangés.

👉 Surligne les produits qui sont dans la mauvaise catégorie.

vaisselle	électroménager	parapharmacie	linge de maison
écumoire	télécommande	sérum	ventilateur
gobelet	moufle	baume	torchon
écritoire	caméscope	lavette	traversin
soupière	connecteur	pansement	housse
grelot	rapporteur	lime	épilateur
égouttoir	genouillère	sale	serviette

👉 Combien de produits mal-rangés a-t-elle trouvés ?

3

👁️ Aurélia fait sa caisse, c'est-à-dire qu'elle compte l'argent liquide récolté.

Elle a : 19 billets de 50€, 30 billets de 20€, 29 billets de 10€, 9 billets de 5€, 45 pièces de 2€, 31 pièces de 1€, 18 pièces de 50 centimes, 12 pièces de 20 centimes, 2 pièces de 10 centimes, 6 pièces de 5 centimes, 8 pièces de 2 centimes et 8 pièces de 1 centime.

👉 De quelle somme dispose-t-elle dans sa caisse ?

Elle dispose de , €

COLORIE EN LES CASES : G1, H1, I1, J1, E2, F2, K2, L2, M2, A3, B3, C3, D3, N3, O3, P3, Q3, A4, Q4, B5, P5, C6, E6, K6, N6, O6, D7, M7, E8, L8, F9, G9, H9, I9, J9, K9, M9, D10, E10, N10, C11, F11, M11, O11, C12, E12, F12, H12, I12, J12, M12, O12, F13, M13, N13, F14, I14, J14, M14, F15, G15, H15, K15, L15, M15

JOUR 8 : CARRELEUR



👁️ Reporte les lettres correspondant aux symboles pour découvrir comment colorier le pixel art. Pour les chiffres, 1 = A, 2 = B, 3 = C...

1

📺 Regarde cette vidéo sur le métier de carreleur : <https://huit.re/carreleur>

👉 Qu'est-ce que le mortier ?

.....

👉 Avec qui Valérie travaille-t-elle ?

.....

.....

👉 Qu'est-ce qui a rendu le métier de carreleur moins physique ?

- a) la construction d'ascenseur o) l'utilisation de carrelettes électriques
 e) les carreaux ne sont conditionnés que par 5 i) les sacs de ciment ne pèsent plus que 25 kg

2

👁️ Valérie doit carreler une pièce de 7m de longueur et de 5m de largeur. Elle dispose de carreaux carrés mesurant 0,5 m de côté (50 cm).

Les carreaux sont vendus par paquet de 7. Chaque paquet coûte 35,50€.

👉 Quelle est la superficie de la pièce ? m²

👉 Quelle est la superficie d'un carreau ? m²

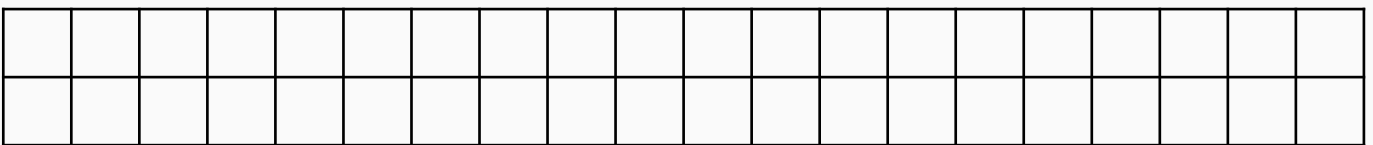
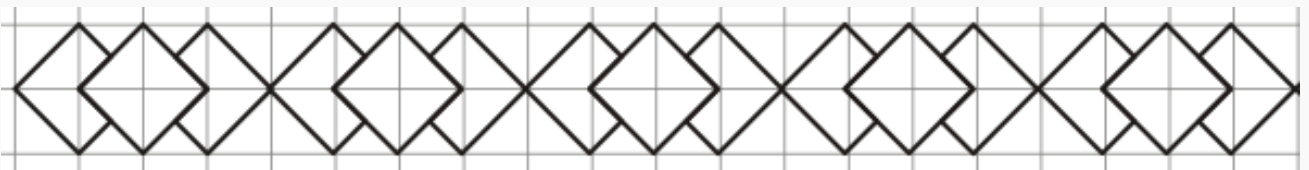
👉 Combien de carreaux va-t-elle utiliser ?

👉 De combien de paquets a-t-elle besoin ?

👉 Combien cela va-t-il coûter ? €

3

👉 Reproduis cette frise de pavage.



COLORIE EN

LES CASES : L9, F10, G10, I10, K10, L10, M10, E11, G11, K11, L11, N11,

G12, K12, L12, G13, K13, L13

JOUR 9 : CARROSSIER



👁️ Reporte les lettres correspondant aux symboles pour découvrir comment colorier le pixel art. Pour les chiffres, 1 = A, 2 = B, 3 = C....

1

👁️ Regarde cette vidéo sur le métier de carrossier : <https://huit.re/carrossier>

👂 Explique ce que fait un carrossier.

.....

.....

👂 Quels diplômes Jérôme a-t-il obtenus?.....

👂 Selon Jérôme, quelle est la principale contrainte du métier de carrossier ? ↑

- r) c'est physique l) les horaires sont contraignants h) les peintures sont polluantes
- g) les clients peuvent être désagréables m) il y a beaucoup de stress

👂 Qu'apprécie Jérôme dans son travail ?

.....

.....

2

👁️ Jérôme doit réaliser une facture pour l'un de ses clients. 📝 Complète-la.

TAUX HORAIRES DE FACTURATION

Main d'œuvre	Mécanique	Carrosserie	Peintures
M01 : OPERATIONS COURANTES	40,00 € HT	55,00 € HT	55,00 € HT
Dépose - pose et remplacement : <i>Organes mécaniques, électriques ou de carrosserie en échange standard.</i>	48,00 € TTC	66,00 € TTC	66,00 € TTC
M02 : OPERATIONS COMPLEXES	50,00 € HT	65,00 € HT	
Révision, réfection et réglage : <i>Mécaniques électriques et hydrauliques, redressage d'éléments de carrosserie, effectuées au sol.</i>	60,00 € TTC	78,00 € TTC	

Type de main d'œuvre (M01, M02)	Type de service (mécanique, carrosserie, peintures)	Tarif horaire (TTC)	Nombre d'heures de travail	Total (TTC)
M01	mécanique		6h	
		78 €	3h	
M02	mécanique			120€
M01	carrosserie		5h	
			Total	
			Réduction (15%)	
			Total après réduction	

COLORIE EN



LES CASES : H10, J10, H11, I11, J11, D12, D13, H13, I13, J13, D14, D15



JOUR 10 : CHARCUTIER-TRAITEUR



👁 Reporte les lettres correspondant aux symboles pour découvrir comment colorier le pixel art. Pour les chiffres, 1 = A, 2 = B, 3 = C...

1

📺 Regarde cette vidéo sur le métier de charcutier-traiteur : <https://huit.re/charcutier>

🗨 Combien de temps dure la formation en CAP charcutier-traiteur ?.....

🗨 Quelle viande est utilisée par le charcutier ? ↑

s)le bœuf r)le porc t)le mouton p)le veau n)le lapin

🗨 Selon David, quelles sont les qualités nécessaires pour exercer ce métier ?

.....
.....

🗨 Quel est le projet de David pour l'avenir ?

.....

2

👁 David doit proposer un devis à Manon qui souhaite organiser une fête pour ses 18 ans. Elle souhaite que chacun puisse manger une portion de paëlla, légumes, du fromage, une tartelette et avoir du pain. La soirée réunira 33 personnes dont 2 ne mangeant pas de viande, pour lesquels elle doit prévoir une paëlla poisson.

🗨 Combien cela va-t-il lui coûter ?

Elle devra payer , €.

1^{ère} formule :

• Plat à choisir dans les plats uniques + Légumes + Fromages en portion + Tartelette + Pain 11.90 €

2^{ème} formule :

• 200 gr. de crudités (2 au choix dans les crudités) + Plat à choisir dans les plats uniques + Légumes + Fromages en portion + Tartelette + Pain 13.90 €

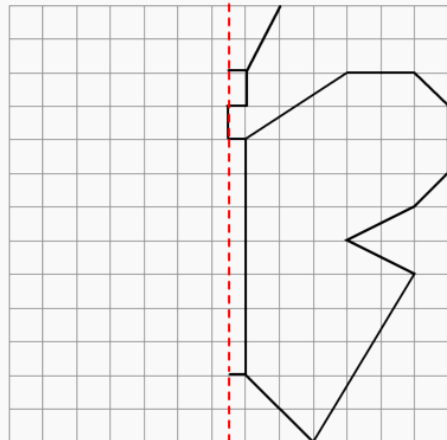
SUPPLÉMENT :

- Choucroute de la mer 2.50 €
- Choucroute garnie 0.50 €
- Paëlla poisson 1.50 €
- Cassoulet 1.00 €

3

👁 David doit réaliser une présentation de charcuterie pour un mariage. Il a commencé à réaliser un papillon et doit tracer le symétrique.

🗨 Trace le symétrique de cette figure.



COLORIE EN



LES CASES : E3, L3, M3, L4